





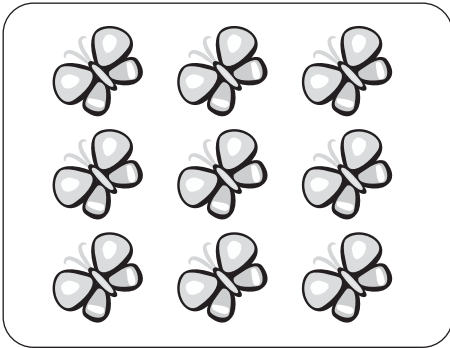

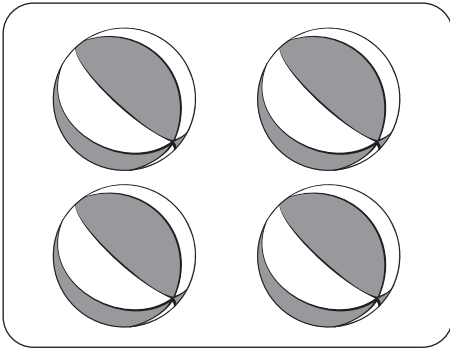


Допоможи білочці дістатися грибочка. Розфарбуй клітинки з цифрами від 1 до 10.



			2	6	1	2	5	7	8
			4	5	6	3	2	1	9
			1	2	9	0	5	6	3
3	6	7	6	3	4	8	4	7	2
2	7	9	0	6	5	6	9	0	5
8	3	5	9	1	8	7	8	3	4
3	5	7	1	6	1	8	9	2	7
2	4	6	9	1	8	7	10		
5	3	7	1	9	0	3	6		
2	5	8	0	1	7	5	3		



Порахуй кількість предметів у кожній групі.  
Проведи лінію до відповідної цифри. Обведи цифри  
за пунктиром.



2

4

3

5


6

7


8

9


Проведи лінії за пунктиром. Які групи утворилися? Порахуй кількість у кожній групі. Запиши відповідні цифри в клітинки.




У кожній групі порахуй кількість тварин. Впиши відповідні цифри у клітинки. Порівняй числа (наведи відповідний знак «<», «>» або «=»).




--	--	--



--	--	--




--	--	--



--	--	--

Впиши числа або знаки так, щоб були істинні рівності та нерівності.


7 >



6 <




8 =




> 9

2



2

6 <




4




7

6 <




2



2

5 >




3



6

7 =



7 >



Склади за малюнками нерівності.

10 Christmas trees and 8 Christmas ornaments.

--	--	--

6 trucks and 5 helicopters.

--	--	--

10 airplanes and 8 girls.

--	--	--

6 drums and 3 jump ropes.

--	--	--

6 guitars and 7 violins.

--	--	--

6 clowns in one outfit and 4 clowns in another outfit.

--	--	--

Засели будиночки. Впиши відповідні числа.

