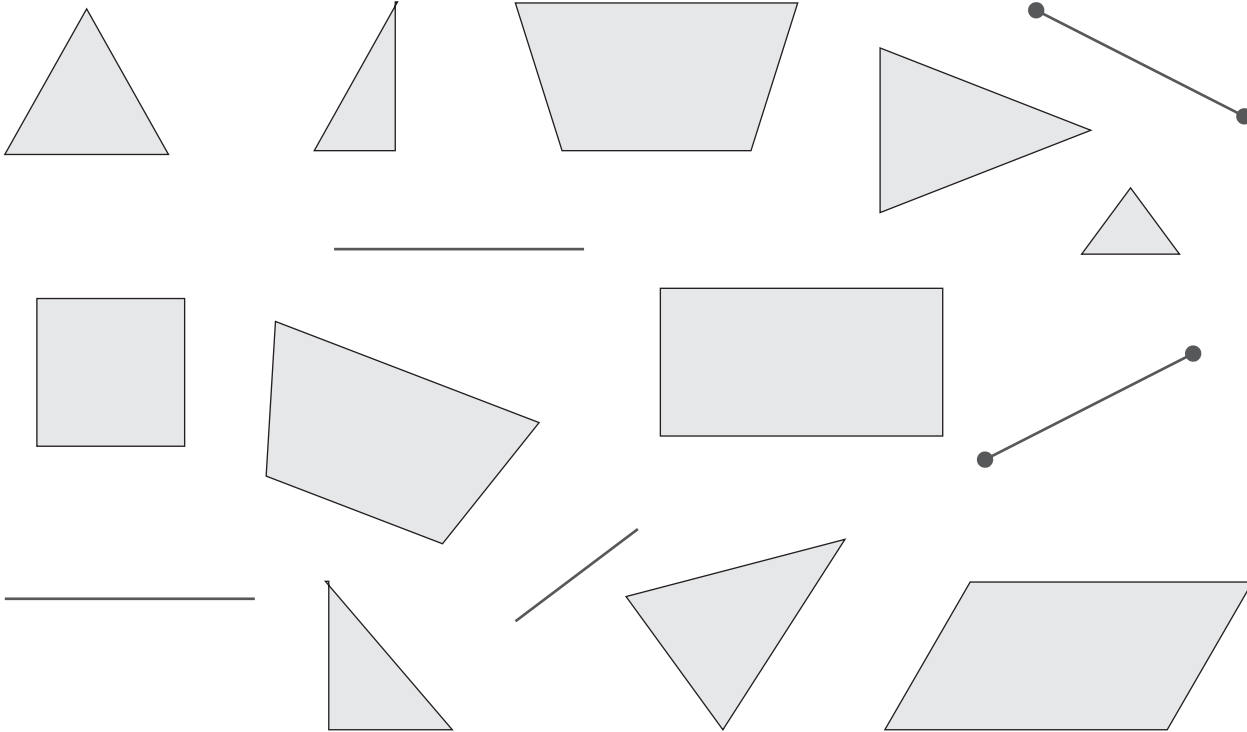


Порахуй геометричні фігури та напиши відповіді.



Відрізків

Квадратів

Прямокутників

Трикутників

Прямих ліній

Трикутників більше,
ніж чотирикутників на

Чотирикутників менше,
ніж трикутників на

Відрізків менше, ніж прямих ліній на

Порахуй та порівняй.

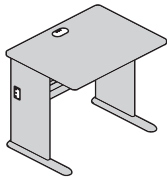
Порахуй, скільки у класі:



дівчаток

хлопчиків

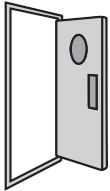

на



парт

стілців


на



дверей

вікон

на



вчителів

учнів

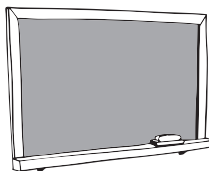

на



шаф

ламп

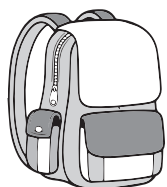

на



шкільних
дошок

дзвоників

на



рюкзаків

окулярів

на



Допоможи паровозику дістатися фінішу. Розфар-
буй клітинки з відповіддю 6.



Старт



$6 + 6$	$11 - 8$	$11 - 4$	$6 + 0$	$11 - 5$	$10 - 4$	$9 - 3$	$2 + 4$	$1 + 5$	$0 + 6$
$17 - 6$	$13 - 4$	$4 + 12$	$12 - 6$	$8 - 7$	$7 - 2$	$6 + 3$	$4 + 4$	$6 + 4$	$4 + 12$
$5 + 11$	$6 + 4$	$11 - 8$	$5 + 1$	$10 - 4$	$4 + 2$	$3 + 3$	$8 - 2$	$7 - 1$	$6 + 0$
$9 - 7$	$4 + 12$	$1 + 15$	$10 - 5$	$6 + 6$	$11 - 8$	$11 - 4$	$1 + 15$	$4 + 12$	$11 - 5$
$13 + 3$	$4 + 4$	$8 + 5$	$2 + 6$	$6 + 0$	$11 - 5$	$10 - 4$	$4 + 2$	$1 + 15$	$4 + 2$
$14 - 4$	$10 - 5$	$4 + 12$	$13 - 4$	$12 - 6$	$4 + 12$	$10 - 5$	$9 - 3$	$10 - 5$	$12 - 6$
$9 - 7$	$13 + 3$	$4 + 4$	$6 + 4$	$5 + 1$	$10 - 4$	$2 + 6$	$2 + 4$	$12 - 6$	$1 + 5$
$5 + 11$	$6 + 4$	$11 - 8$	$4 + 12$	$6 + 12$	$9 - 3$	$11 - 4$	$9 - 7$	$13 + 3$	$11 - 4$
$6 + 0$	$4 + 2$	$3 + 3$	$8 - 2$	$7 - 1$	$2 + 4$	$4 + 12$	$1 + 15$	$10 - 5$	$4 + 12$
$11 - 5$	$14 - 4$	$8 + 5$	$2 + 6$	$9 - 7$	$13 + 3$	$4 + 4$	$8 + 5$	$2 + 6$	$11 - 8$
$5 + 1$	$10 - 4$	$4 + 2$	$3 + 3$	$0 + 6$	$12 - 6$	$6 + 6$	$11 - 8$	$11 - 4$	$1 + 15$



Фініш

Порівняй іменовані числа. Впиши знаки «>», «<» або «=».



1 дм 3 см 13 см

20 см 2 дм 3 см

85 см 5 дм 8 см

4 дм 7 см 74 см

18 см 8 дм 1 см

1 год 5 хв 45 хв

5 діб 5 тижн.

1 рік 13 міс.

3 доби 22 год

2 роки 2 століття

3 дм 4 см + 2 см 6 дм

53 см - 2 см 5 дм 1 см

4 дм 7 см - 6 см 4 дм

51 см + 5 см 6 дм

7 дм 6 дм 7 см + 3 см

12 дм 6 дм + 60 см

85 хв - 25 хв 1 год 5 хв

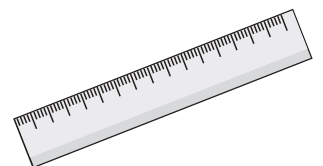

8 год 45 хв - 1 год 7 год

15 год + 5 год 1 доба

1 рік 15 міс. - 3 міс.

1 год 40 хв + 20 хв

12 год 10 год + 2 год



Впиши пропущені числа так, щоб вирази були істинними.

$58 + \square = 59$

$\square + 4 = 86$

$47 + \square = 58$

$78 - \square = 77$

$\square - 3 = 61$

$70 - \square = 60$

$60 + \square = 65$




$\square - 43 = 35$

$40 + \square = 90$

$32 + \square = 53$

$59 - \square = 50$

$69 - \square = 9$



$20 + 8 + \square = 30$

$52 + \square = 76$

$\square - 6 = 70$

$52 + \square - 60 = 2$

$\square + 7 = 67$

$36 - \square + 20 = 50$

$\square - 8 + 23 = 33$

$40 - \square = 20$

$\square - 20 - 4 = 40$

$85 - \square = 5$

Впиши пропущені числа.

$$\square + 6 = 12$$

$$9 + \square = 13$$

$$\square + 5 = 14$$

$$7 + \square = 15$$

$$\square + 6 = 14$$

$$2 + \square = 11$$

$$\square + 6 = 13$$

$$7 + \square = 14$$


$$\square + 7 = 16$$

$$9 + \square = 18$$

$$\square + 8 = 15$$

$$4 + \square = 12$$

$$\square + 9 = 12$$



$$9 + \square = 17$$

$$\square + 8 = 16$$

$$6 + \square = 15$$

$$\square + 6 = 10$$

$$5 + \square = 13$$

$$\square + 9 = 16$$


$$8 + \square = 14$$

$$\square + 6 = 11$$

$$7 + \square = 13$$

$$\square + 5 = 12$$

$$3 + \square = 11$$



Дай відповіді на запитання. Розфарбуй клітинки з відповідними числами.

0	1	2	3	4	5	6	7	8	9
10	11	12	13	14	15	16	17	18	19
20	21	22	23	24	25	26	27	28	29
30	31	32	33	34	35	36	37	38	39
40	41	42	43	44	45	46	47	48	49
50	51	52	53	54	55	56	57	58	59
60	61	62	63	64	65	66	67	68	69
70	71	72	73	74	75	76	77	78	79
80	81	82	83	84	85	86	87	88	89
90	91	92	93	94	95	96	97	98	99

синій

Скільки тобі років? До цього числа додай 10 і теж розфарбуй.

фіолетовий

Скільки осіб у твоїй сім'ї? До цього числа додай 7 і теж розфарбуй.

червоний

Якого числа у тебе день народження? До цього числа додай 10 і теж розфарбуй.

коричневий

Скільки в тебе хатніх тварин? До цього числа додай 8 і теж розфарбуй.

жовтий

Яке твоє улюблене число? До цього числа додай 30 і теж розфарбуй.

помаранчевий

Скільки учнів у твоєму класі? До цього числа додай 9 і теж розфарбуй.

рожевий

Скільки олівців та ручок у твоєму пеналі? До цього числа додай 28 і теж розфарбуй.

блакитний

Скільки вікон у твоєму класі? До цього числа додай 20 і теж розфарбуй.

салатовий

Скільки хлопців у твоєму класі? До цього числа додай 40 і теж розфарбуй.

червоний

Скільки дівчаток у твоєму класі? До цього числа додай 56 і теж розфарбуй.