

КОРИСНІ ЗАВДАННЯ НА КАНІКУЛИ ДЛЯ






**Наполегливих Уважних
Швидких дїтлахїв**

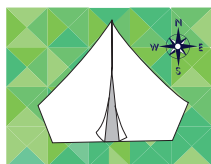
Дорогий друже!

Сподїваємося, що ти вмїєш відпочивати і розважатися із задоволенням. А з користю? пригодами?

У цьому зошитї на тебе чекають **Найцїкавїші**, **Уявні**, **Шаленї** пригоди, пїд час яких ти зможеш:

-  виконати цїкаві завдання,
-  дїзнатися про щось нове,
-  набути **Нових** знань, **Умїнь** і звер**Шень**.


МАНДРУЙ




ДОСЛІДЖУЙ



ГРАЙ



ЧИТАЙ




ОБЧИСЛЮЙ

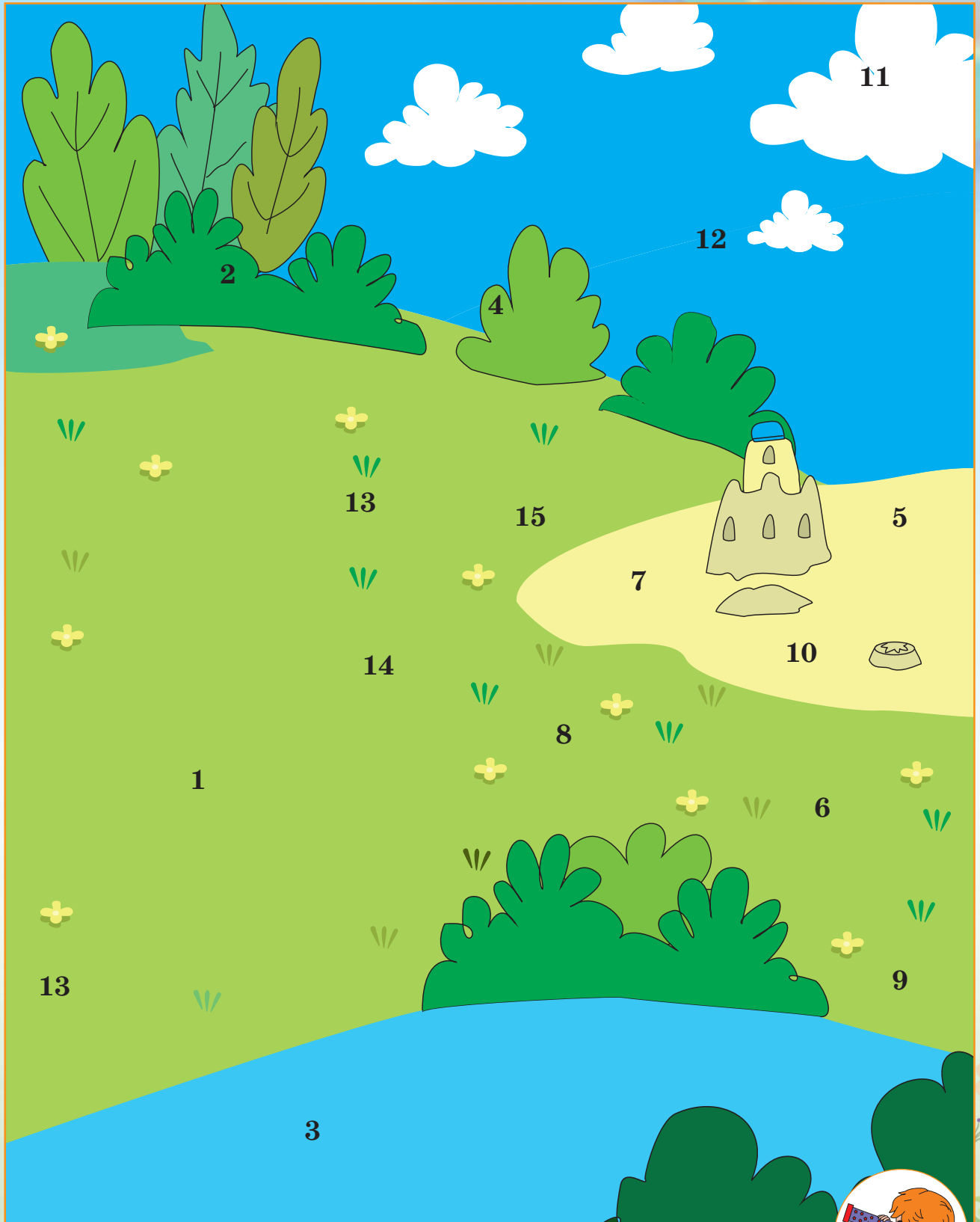


Успїхїв тобі!

ЗРОБИ ЛІТО ЯСКРАВИМ!

Після виконання завдань приклеюй на цих сторінках наліпки на відповідне за номером місце. У тебе з'явиться яскрава картинка!





Що таке калейдоскоп?

1

Прочитай.

Калейдоскоп — це оптичний прилад у вигляді трубки. У ній встановлені дзеркальця, а між ними — шматочки різнокольорових скелець. Коли трубка обертається, скельця відбиваються в дзеркалах, утворюючи безліч найкрасивіших візерунків.

Калейдоскоп придумав англійський науковець Дейвид Брюстер під час дослідів. Частіше його використовують як іграшку.

- Знайди в тексті та підкресли слово *калейдоскоп*.
- Познач ✓ правильне твердження.

Калейдоскоп має вигляд трикутника.

Калейдоскоп — це прилад у вигляді трубки.

Скельця відбиваються у дзеркалах, утворюючи безліч візерунків.

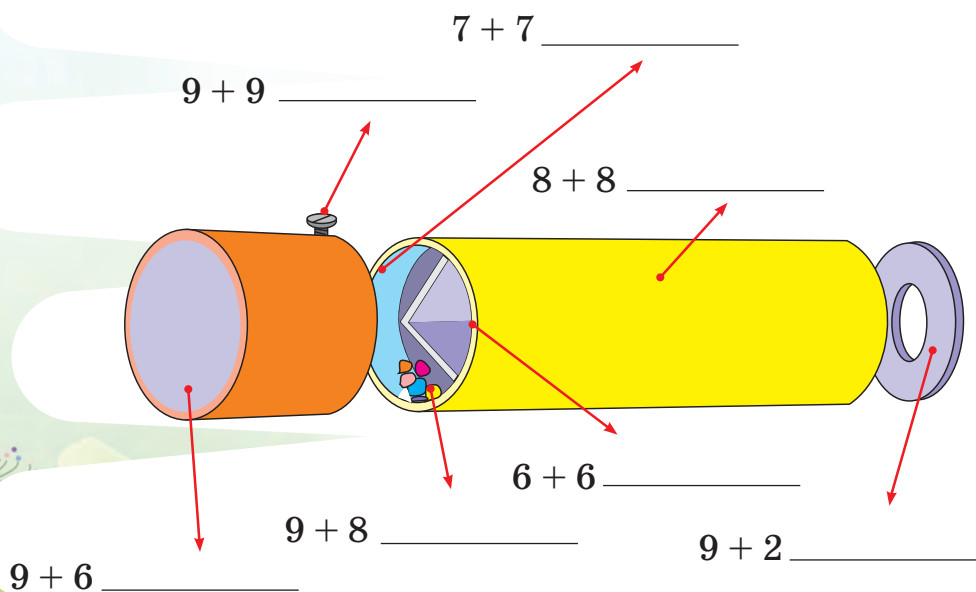
2

Переглянь відеоролик про калейдоскоп.



3

Обчисли, підпиши частини калейдоскопа.



18. Гвинт

14. Камера

16. Корпус





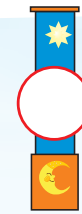



























12. Призма

15. Кришка


17. Скельця

11. Вічко

4 Знайди закономірності, впиши в кружечки відповідні числа.

 15	 13	 11	 9	 ○	 ○	 ○	 ○
 15	 14	 13	 12	 ○	 ○	 ○	 ○
 22	 19	 16	 13	 ○	 ○	 ○	 ○
 42	 37	 32	 27	 ○	 ○	 ○	 ○

Запиши на прапорці останні цифри із калейдоскопів у кожному ряді. Якщо не зможеш прочитати число, попроси дорослих, і ти дізнаєшся, якого року з'явився перший калейдоскоп.



Майже 200 років тому

Яким був твій настрій сьогодні? Обведи.



Наклей наліпку з номером 1 на с. 2.

Літо-літечко!

1

З'єднай лінією назви місяців з відповідними порами року.

квітень

ЗИМА

серпень

вересень

жовтень

грудень

ВЕСНА

січень

листопад

ЛІТО

лютий

червень

березень

травень

ОСІНЬ

липень

2

Розглянь календар. Обведи назви літніх місяців.

СІЧЕНЬ

Пн	Вт	Ср	Чт	Пт	Сб	Нд
	1	2	3	4	5	
6	7	8	9	10	11	12
13	14	15	16	17	18	19
20	21	22	23	24	25	26
27	28	29	30	31		

ЛЮТИЙ

Пн	Вт	Ср	Чт	Пт	Сб	Нд
				1	2	
3	4	5	6	7	8	9
10	11	12	13	14	15	16
17	18	19	20	21	22	23
24	25	26	27	28	29	

БЕРЕЗЕНЬ

Пн	Вт	Ср	Чт	Пт	Сб	Нд
						1
2	3	4	5	6	7	8
9	10	11	12	13	14	15
16	17	18	19	20	21	22
23	24	25	26	27	28	29
30	31					

КВІТЕНЬ

Пн	Вт	Ср	Чт	Пт	Сб	Нд
	1	2	3	4	5	
6	7	8	9	10	11	12
13	14	15	16	17	18	19
20	21	22	23	24	25	26
27	28	29	30			

ТРАВЕНЬ

Пн	Вт	Ср	Чт	Пт	Сб	Нд
			1	2	3	
4	5	6	7	8	9	10
11	12	13	14	15	16	17
18	19	20	21	22	23	24
25	26	27	28	29	30	31

ЧЕРВЕНЬ

Пн	Вт	Ср	Чт	Пт	Сб	Нд
1	2	3	4	5	6	7
8	9	10	11	12	13	14
15	16	17	18	19	20	21
22	23	24	25	26	27	28
29	30					

ЛИПЕНЬ

Пн	Вт	Ср	Чт	Пт	Сб	Нд
			1	2	3	4
5	6	7	8	9	10	11
12	13	14	15	16	17	18
19	20	21	22	23	24	25
26	27	28	29	30	31	

СЕРПЕНЬ

Пн	Вт	Ср	Чт	Пт	Сб	Нд
						1
2	3	4	5	6	7	8
9	10	11	12	13	14	15
16	17	18	19	20	21	22
23	24	25	26	27	28	29
30	31					

ВЕРЕСЕНЬ

Пн	Вт	Ср	Чт	Пт	Сб	Нд
	1	2	3	4	5	6
7	8	9	10	11	12	13
14	15	16	17	18	19	20
21	22	23	24	25	26	27
28	29	30				

ЖОВТЕНЬ

Пн	Вт	Ср	Чт	Пт	Сб	Нд
			1	2	3	4
5	6	7	8	9	10	11
12	13	14	15	16	17	18
19	20	21	22	23	24	25
26	27	28	29	30	31	

ЛИСТОПАД

Пн	Вт	Ср	Чт	Пт	Сб	Нд
						1
2	3	4	5	6	7	8
9	10	11	12	13	14	15
16	17	18	19	20	21	22
23	24	25	26	27	28	29
30						

ГРУДЕНЬ


Пн	Вт	Ср	Чт	Пт	Сб	Нд
	1	2	3	4	5	6
7	8	9	10	11	12	13
14	15	16	17	18	19	20
21	22	23	24	25	26	27
28	29	30	31			

Користуючись календарем, упиши потрібні числа.

Літо — це місяця. Літо — це тижнів.

Літо — це + + = днів.

3 Прочитай список літніх справ Марічки та Петрика. Познач справи, які тобі хотілось би зробити влітку.



Літні побажання Марічки

- З'їздити на море.
- Відсвяткувати День друзів.
- Виростити кавун.
- Зібрати фотоколекцію літніх метеликів.
- Потрапити під теплий дощ і побігати по калюжах.
- Прочитати цікаву книгу.
- Покататися досхочу на велосипеді
- Провести шпигунську вечірку.
- Скуштувати 5 видів морозива та обрати найсмачніше.



Літні побажання Петрика

- З'їздити на море.
- Провести піратську вечірку.
- З'їздити в літній табір.
- Узяти участь у Шишкодні у таборі.
- Відвідати кулінарний майстер-клас.
- Покататися досхочу на велосипеді та роликах.
- Сходити з татом на фотополювання.
- Прочитати цікаву книгу.
- Спостерігати за зорями.

Напиши свої побажання.

Яким був твій настрій сьогодні? Обведи.



Наклей наліпку з номером 1 на с. 3.

На море!

1


Розглянь квиток Марічки.
Упиши пропущені слова
в речення.

РВ

КВИТОК НА АВТОБУС

Від АС ЗапоріжжяДо АС ОдесаРейс № 4549 місце 12Відправлення 14 год. 00 хв.
" 15 " червня 20 20 р.


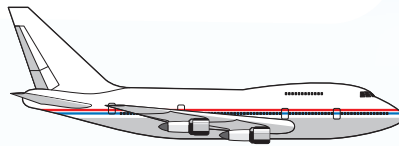
Сидіння м'які

Мінтра
Страховка
тел. _____

Марічка поїхала на море п'ятнадцятого _____.
Вона їхала з міста _____ до міста _____
на _____, який відправився у _____.

2


Обчисли. Дізнайся, на якому транспорті дістався моря Петрик,
якщо його подорож почалася о 10:00 годині.



3

Пограй в гру «Мисливці за помилками». Знайди
помилки у тексті та знищ їх. Якщо знайдеш 5 по-
милок — наклеї наліпку «Влучний стрілець».

На планеті Земля є моря з кольоровою назвою: чорне море, біле море, червоне море та жовте море. Береги України омивають Чорне та азовське моря.




4 Прочитай казку Р. Вердіні «Розумні рибки».




5 Пограй у гру «Правда — неправда». Познач правдиве твердження знаком «+», неправдиве — знаком «-».

- Рибки жили у ставку.
- На дні моря жили три рибки.
- Рибкам жилося добре, оскільки мали власний затишний будиночок.
- Камінь, який упав із берега, загородив вхід у будиночок.
- Рибалка дуже здивувався, тому що дістав з води камінь.



6 Підпиши ім'я рибок.



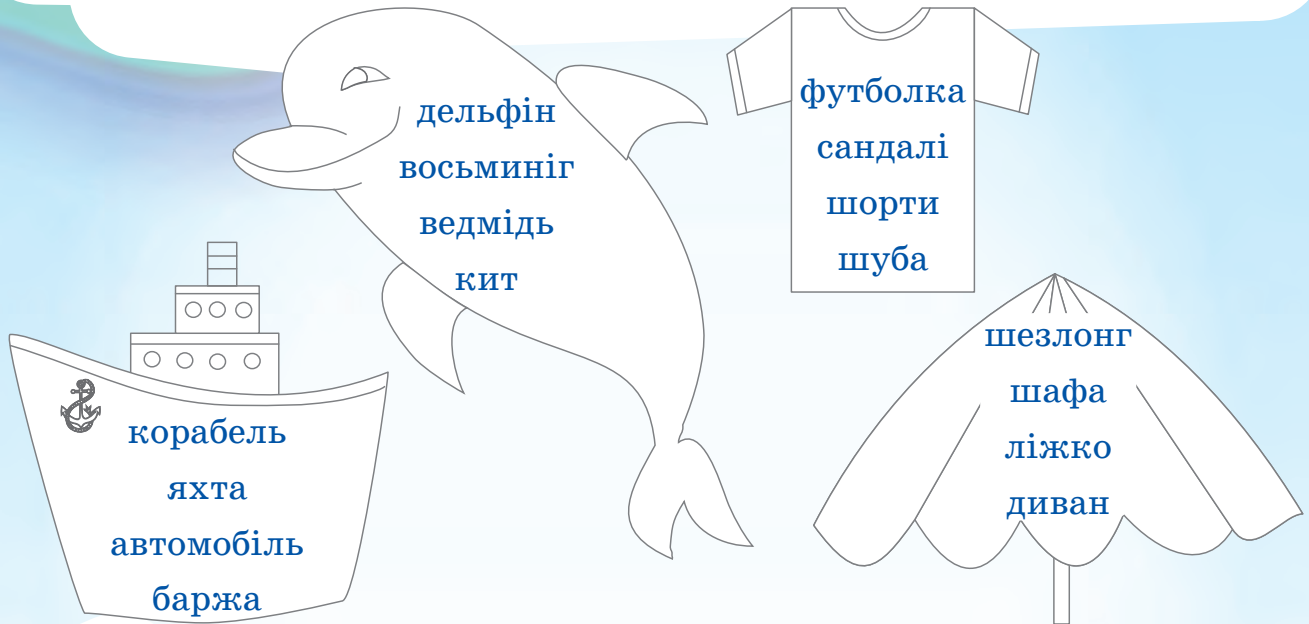
Яким був твій настрій сьогодні? Обведи.



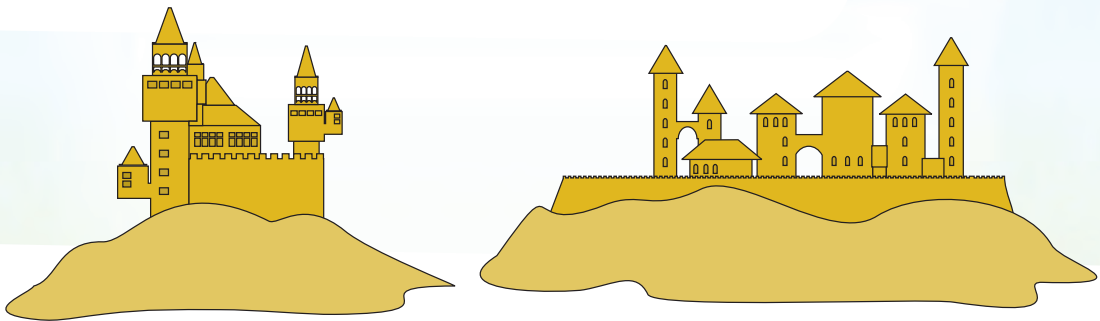
Наклей наліпку з номером 2 на с. 2.

Пригоди на морі

1 Прочитай слова. Визнач наголошений склад. Знайди та закресли зайве слово.



2 Обери правильній вираз для розв'язання задачі. Познач його ✓. Обчисли.



Марічка та Петрик будували замки з піску. Замок Марічки був заввишки 39 см, а замок Петрика — 59 см. На скільки вище замок Петрика, ніж Марічки?

$59 + 39 = \square$ (см)

$59 : 2 = \square$ (см)

$59 - 39 = \square$ (см)

$59 \cdot 2 = \square$ (см)